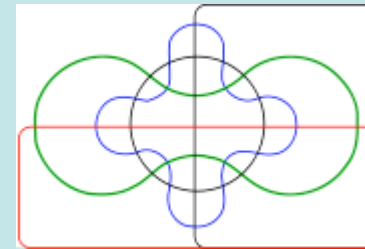
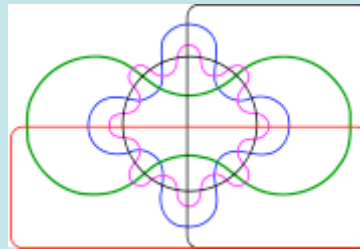
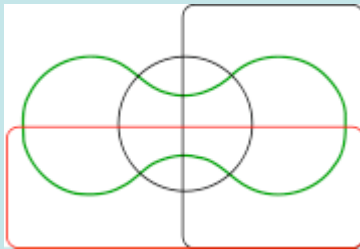


TEORÍA DE CONJUNTOS



ACTIVIDAD PARA ALUMNOS 2º AÑO

- ✓ Sesión de 3 horas
- ✓ Utilizamos fichas de colores, fotos del grupo, etc
- ✓ La primera parte puede alargarse/acortarse en función del grupo
- ✓ Actividades en un primer momento conjuntas
- ✓ Actividades por parejas
- ✓ Paradojas conjuntistas como actividad final de desconexión

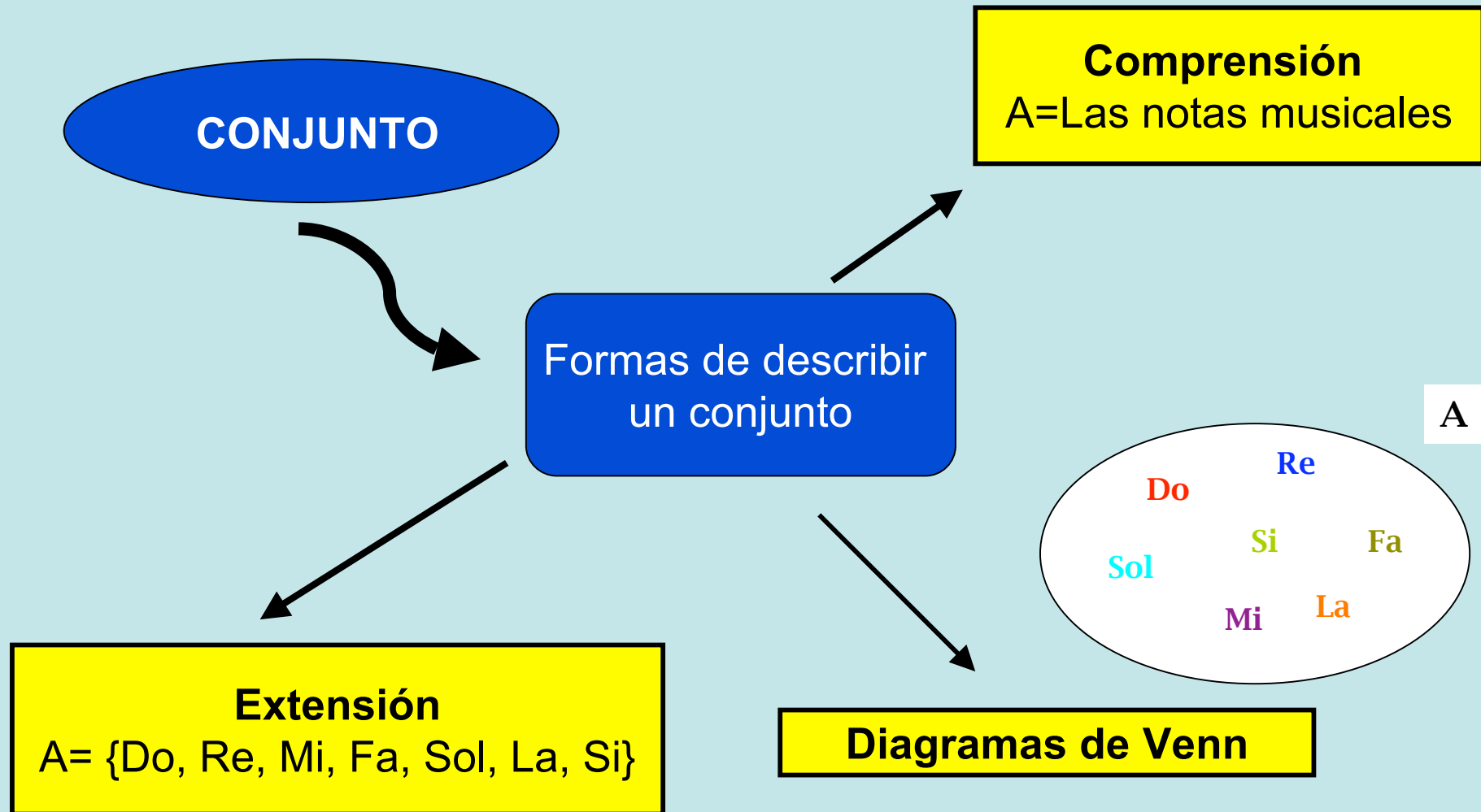
Primera parte sesión ...

- Introducimos los conceptos básicos de la teoría de conjuntos.
- Nos familiarizamos con la notación de la teoría de conjuntos.
- Practicamos con la notación presentada.



CON FOTOS DEL GRUPO
SE TRABAJAN CONCEPTOS
Y RELACIONES

DEFINICIONES



Conjunto vacío $F = \emptyset$

Conjunto universal

Un elemento pertenece o no pertenece a un conjunto

$x \in A$

$x \notin A$

$A \subset B$

A ESTÁ CONTENIDO EN B

PARTES DE A

Cardinal de A

$\mathcal{P}(A)$

Card(A)

ACTIVIDADES

➤ Escribe por extensión los siguientes conjuntos:

$A = \{\text{Números enteros positivos de dos cifras iguales}\}$

$B = \{x / x \text{ es un número entero positivo de dos cifras que suman } 6\}$

➤ Escribe por comprensión los siguientes conjuntos:

$A = \{3, 6, 9, 12, 15, 18\}$

$B = \{16, 25, 34, 43, 52, 61, 70\}$

➤ Dados los siguientes conjuntos:

$A = \{\text{Números enteros positivos de dos cifras iguales}\}$

$B = \{x / x \text{ es un número entero positivo de dos cifras que suman } 6\}$

Relacionar con el símbolo adecuado las siguientes parejas de elementos y conjuntos:

555 A

-33 B

33 A

33 B

45 B

- Dado el conjunto $A = \{ 2, 4, 6 \}$ escribe el conjunto “partes de A”.
- Dado el conjunto $B = \{ a, e, i, o, u \}$ escribe el conjunto “partes de B”.
- Dados $A = \{ 0, 1, 2, 3, 4, 5, 6, 7, 8, 9 \}$, $B = \{ 2, 4, 6, 8 \}$ y $C = \{ 2, 3 \}$, escribe la relación que hay entre A, B y C.
- Escribe el cardinal de los conjuntos de las actividades anteriores.

Segunda parte sesión ...

- Introducimos relaciones entre conjuntos:
 - ✓ Intersección
 - ✓ Unión
 - ✓ Complementario
 - ✓ $A-B$
- Ejercicios sencillos de aplicación.
- Aplicación a problemas.

OPERACIONES CON CONJUNTOS

UNION DE CONJUNTOS

$$A \cup B = \{x / x \in A \text{ o } x \in B\}$$

INTERSECCIÓN DE CONJUNTOS

$$A \cap B = \{x / x \in A \text{ y } x \in B\}$$

COMPLEMENTARIO DE UN CONJUNTO

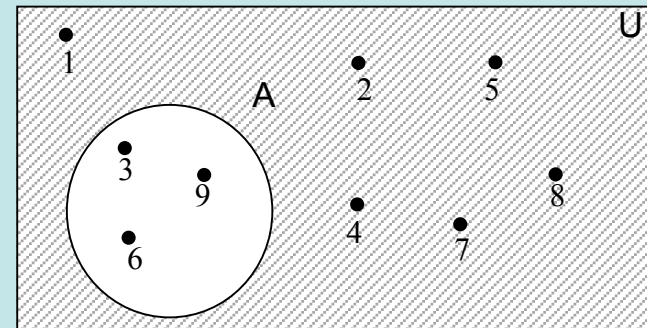
$$A^c = A' = \{x / x \in U \text{ y } x \notin A\}$$

$$A \text{ MENOS } B: A - B = A \cap B^c$$

EJEMPLOS . . .

$$U = \{1, 2, 3, 4, 5, 6, 7, 8, 9\} \quad A = \{3, 6, 9\}$$

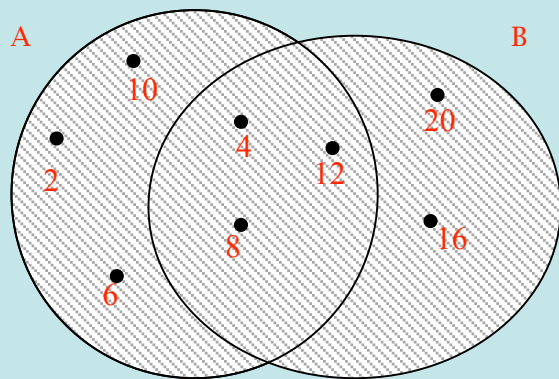
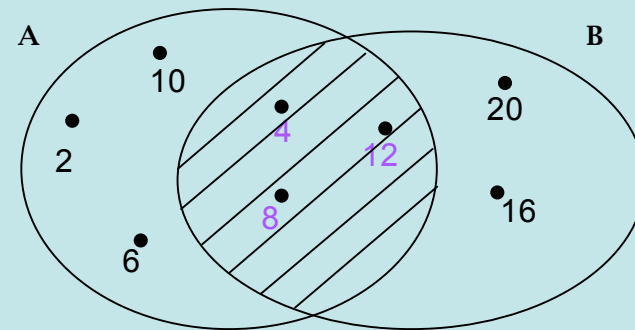
$$A' = \{1, 2, 4, 5, 7, 8\}$$



$$A = \{2, 4, 6, 8, 10, 12\}$$

$$B = \{4, 8, 12, 16, 20\}$$

$$A \cap B = \{4, 8, 12\}$$



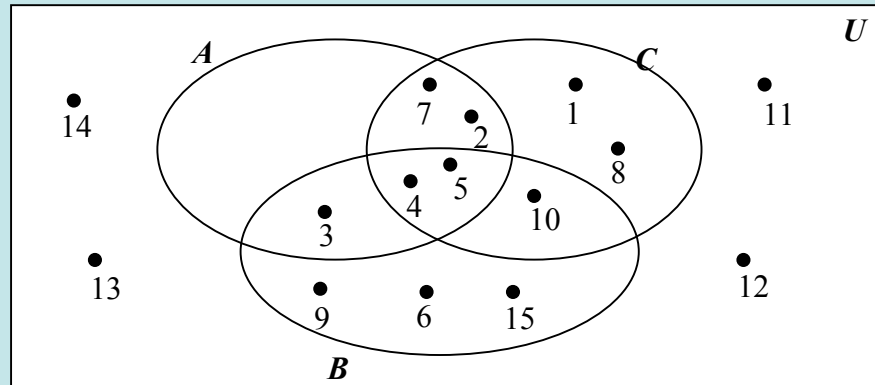
$$A \cup B = \{2, 4, 6, 8, 10, 12, 16, 20\}$$

ACTIVIDADES

❖ Completa según corresponda:

Definición por comprensión	Definición por extensión
$\{x / x \text{ es un número entero positivo menor que } 6\}$	
	{Luna}
$\{x / x \text{ es un número primo menor que } 10\}$	
	{ }

❖ Consideremos el siguiente diagrama de Venn:



Escribir por extensión:

$$A \cap B =$$

$$U^C =$$

$$A \cup C =$$

$$A \cap (B \cup C)^C =$$

$$B^C =$$

$$B - C =$$

$$A \cap B \cap C =$$

$$A - B =$$

❖ Marcos tiene en su habitación unas fotografías estupendas de sus animales favoritos: Una mariposa, un pingüino, un águila, una mosca africana, un pez volador, un avestruz, un tucán, un pato mandarín y una orca.

Si llama A al conjunto de las Aves, B al de los animales que vuelan y C al de los animales que nadan, haz el Diagrama de Venn con la clasificación de los animales de la colección de Marcos.

❖ Deducir las siguientes fórmulas:

$$\text{Card } (A \cup B) = \quad \text{y} \quad \text{Card } (A \cup B \cup C) =$$

❖ Aplícalas para resolver las siguientes cuestiones:

1.- En el conjunto formado por todos los números naturales estrictamente menores que 1000, decir cuántos números hay que no son múltiplos ni 3 ni de 5 ni de 7.

2.- En una oficina de colocación se ofrecen 29 puestos de trabajo del ramo de la construcción: 13 deben ser albañiles, 13 fontaneros y 15 carpinteros. De éstos 6 tienen que ser albañiles y fontaneros, 4 fontaneros y carpinteros y 5 albañiles y carpinteros.

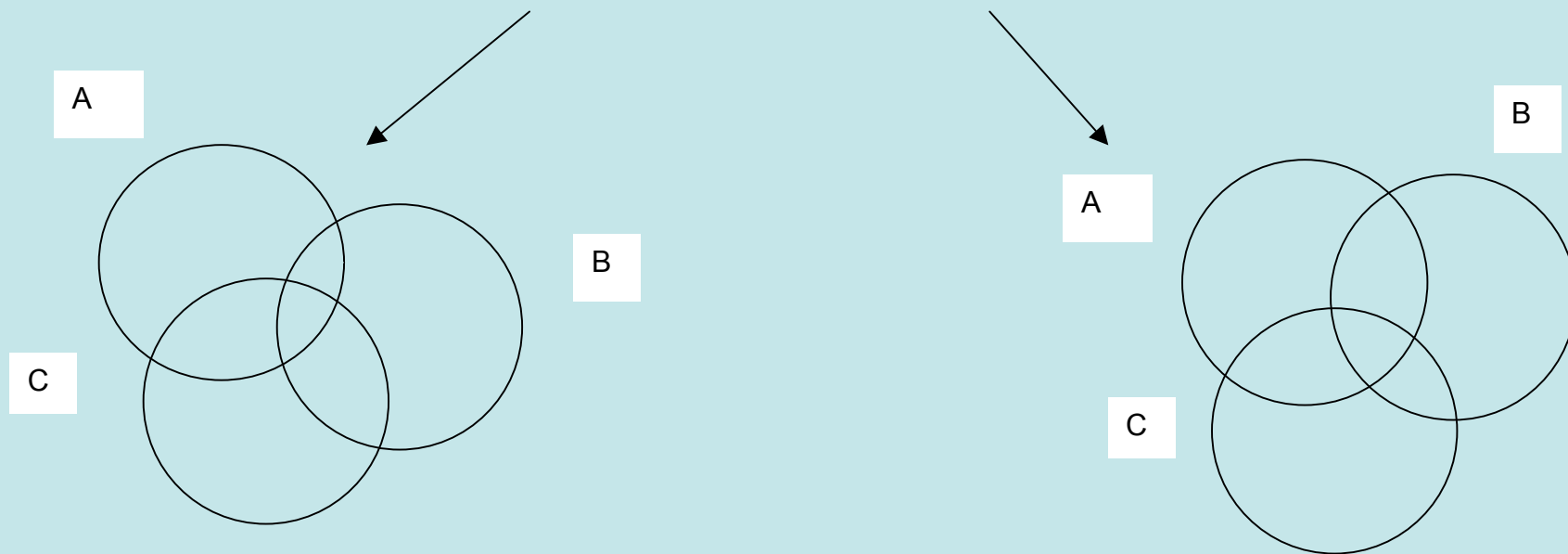
- a) ¿Cuántos tienen que ser las tres cosas a la vez?
- b) ¿A cuántas personas que sólo tengan el oficio de albañil se les puede ofrecer empleo?

Tercera parte sesión ...

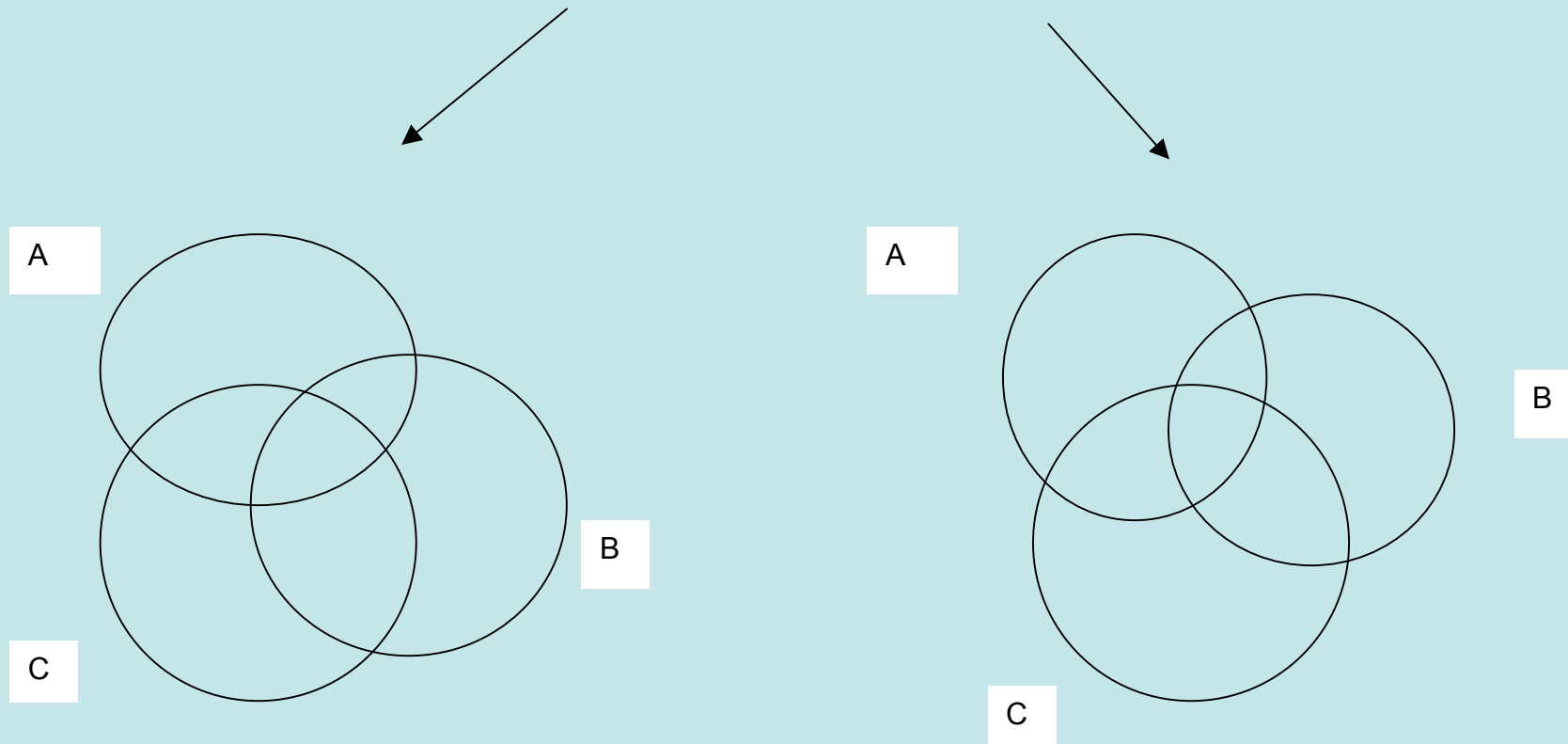
- Demostraciones “formales”.
- Leyes de Morgan.
- Cálculo simbólico.
- Paradojas conjuntistas.

Demostrar las siguientes LEYES DISTRIBUTIVAS
utilizando diagramas de Venn:

$$A \cup (B \cap C) = (A \cup B) \cap (A \cup C)$$



$$A \cap (B \cup C) = (A \cap B) \cup (A \cap C)$$



LEYES DE MORGAN

$$(A \cup B)' = A' \cap B'$$

$$(A \cap B)' = A' \cup B'$$

Utiliza las propiedades que conoces para resolver las siguientes cuestiones:

- Demuestra que $A = (A \cap B) \cup (A - B)$
- Demuestra que $(A - B) \cap (A - C) = A - (B \cup C)$
- Demuestra que $A - (B \cap C) = (A - B) \cup (A - C)$

SIMPLIFICA LAS SIGUIENTES EXPRESIONES


$$((A \cap B) \cap C) \cup ((A \cap B) \cap C') \cup (A' \cap B)$$

Solución : B

$$(A \cap (B \cap C'))' \cup ((A' \cup B') \cup C)'$$

Solución : A

PARADOJAS CONJUNTISTAS



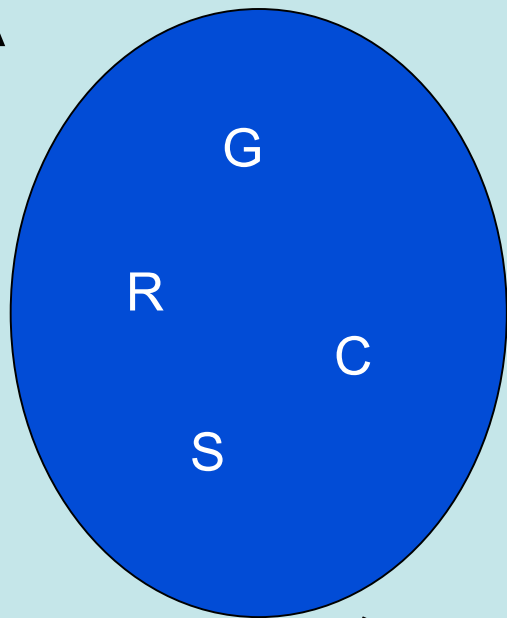
HISTORIA DE LAS MATEMÁTICAS

José Luis Carlavilla y Gabriel Fernández

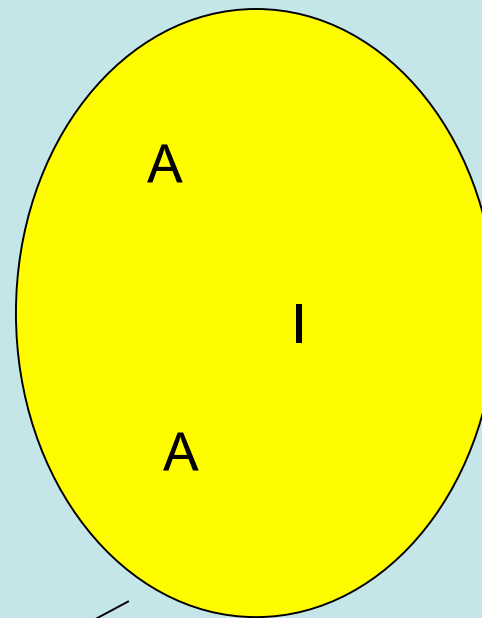
(Editorial Proyecto Sur)

ESTALMAT CANTABRIA
CURSO 2009 - 2010


A



B



$A \cup B$



\cap

